



Agrupamento Vertical de Escolas Diogo Cão

Departamento do 1º Ciclo

Nome: _____; Data: ____/____/____

1. Arredonda os seguintes números à dezena mais próxima, com recurso à reta numérica:

Número	Dezena mais próxima	Reta numérica
37		
83		
79		
14		
19		

2. Arredonda, à centena mais próxima, os números que se seguem:

a) 204 _____

e) 296 _____

b) 151 _____

f) 127 _____

c) 835 _____

g) 509 _____

d) 444 _____

h) 743 _____

3. Arredonda, os seguintes números, ao milhar mais próximo:

a) 3 111 _____

e) 6 327 _____

b) 6 834 _____

f) 1 274 _____

c) 2 299 _____

g) 7 689 _____


d) 4 598 _____

h) 3 705 _____


Agrupamento Vertical de Escolas Diogo Cão

Departamento do 1º Ciclo


4. Lê o que os números têm para te dizer e acaba de preencher as suas falas.



Olá, eu sou o número 77
e a dezena mais próxima
de mim é _____.



Eu cá sou o 343 e como
dezena mais próxima tenho
_____ e como centena
mais próxima _____.



E eu? Qual é a minha dezena mais
próxima? _____
Então e a centena? _____
E já agora, qual será o milhar mais
próximo? _____

5. Faz o arredondamento dos números apresentados:

5.1. à dezena mais próxima:

- a) 5 324 _____
- b) 343 _____
- c) 9 587 _____
- d) 341 _____

5.2. à centena mais próxima:

- a) 1 642 _____
- b) 13 876 _____
- c) 10 290 _____
- d) 2 578 _____

5.3. ao milhar mais próximo:

- a) 2 596 _____
- b) 14 125 _____
- c) 33 859 _____
- d) 28 394 _____